



Resuelve cada problema.

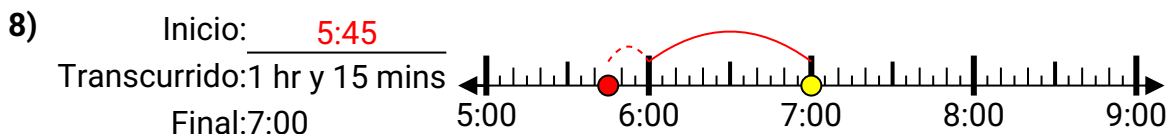
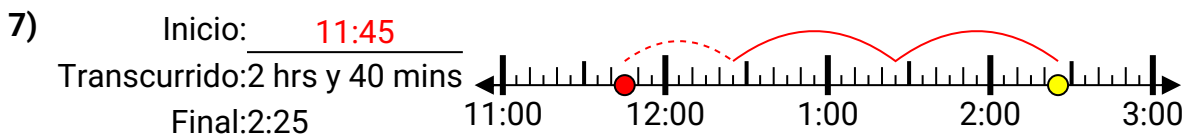
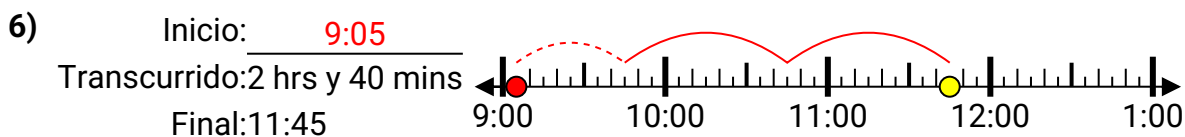
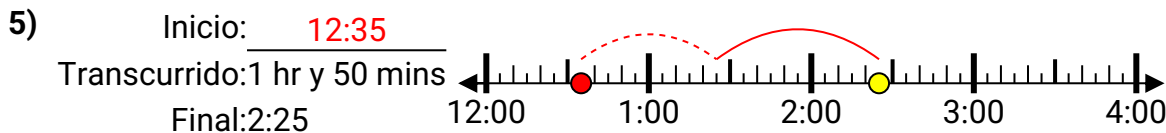
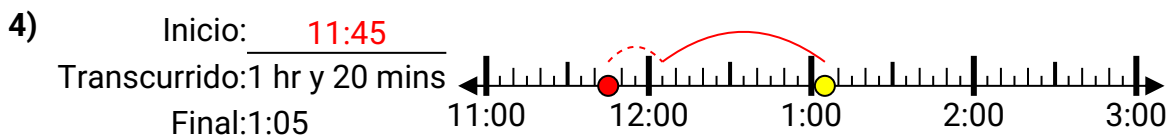
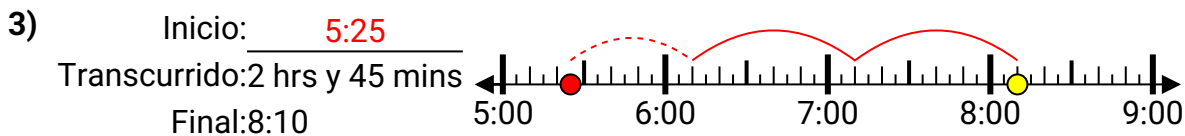
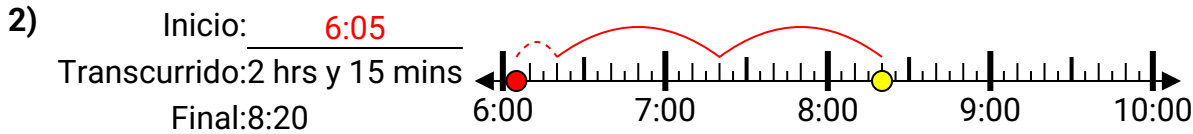
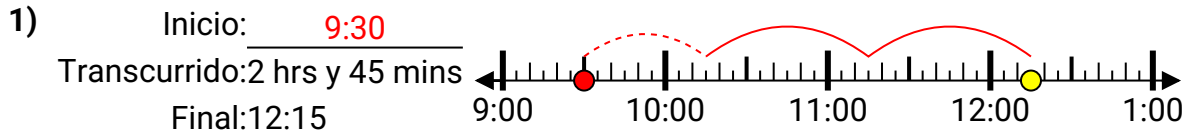
Respuestas

- 1) Inicio: _____
Transcurrido: 2 hrs y 45 mins
Final: 12:15
- 2) Inicio: _____
Transcurrido: 2 hrs y 15 mins
Final: 8:20
- 3) Inicio: _____
Transcurrido: 2 hrs y 45 mins
Final: 8:10
- 4) Inicio: _____
Transcurrido: 1 hr y 20 mins
Final: 1:05
- 5) Inicio: _____
Transcurrido: 1 hr y 50 mins
Final: 2:25
- 6) Inicio: _____
Transcurrido: 2 hrs y 40 mins
Final: 11:45
- 7) Inicio: _____
Transcurrido: 2 hrs y 40 mins
Final: 2:25
- 8) Inicio: _____
Transcurrido: 1 hr y 15 mins
Final: 7:00

1. _____
2. _____
3. _____
4. _____
5. _____
6. _____
7. _____
8. _____



Resuelve cada problema.

**Respuestas**

1. 9:30
2. 6:05
3. 5:25
4. 11:45
5. 12:35
6. 9:05
7. 11:45
8. 5:45