



Respuestas

Ej. 4:3

1.

2.

3.

4.

5. _____

6.

7. _____

8.

9.

10.

11.

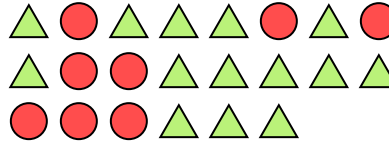


Resuelve cada problema.


Ej) ¿Cuál es la relación de moons a círculos?




1) ¿Cuál es la relación de triángulos a círculos?



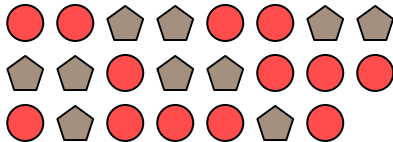
2) ¿Cuál es la relación de círculos a hearts?



3) ¿Cuál es la relación de moons a círculos?




4) ¿Cuál es la relación de círculos a pentágonos?



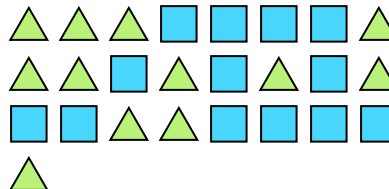
5) ¿Cuál es la relación de círculos a moons?



6) ¿Cuál es la relación de hearts a pentágonos?




7) ¿Cuál es la relación de triángulos a cuadros?



8) ¿Cuál es la relación de hearts a triángulos?



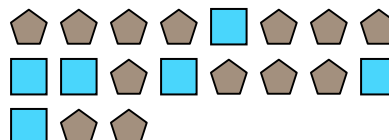
9) ¿Cuál es la relación de triángulos a estrellas?



10) ¿Cuál es la relación de estrellas a hearts?



11) ¿Cuál es la relación de pentágonos a cuadros?

**Respuestas**Ej. **4:3**1. **14:8**2. **8:15**3. **9:14**4. **13:10**5. **2:9**6. **6:15**7. **12:13**8. **10:2**9. **11:7**10. **15:6**11. **13:6**