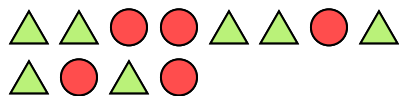


Resuelve cada problema.

Respuestas


Ej) ¿Cuál es la razón de círculos a triángulos?



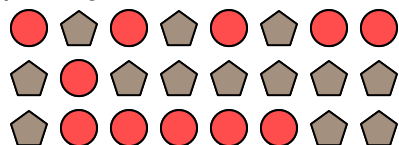
2) ¿Cuál es la razón de estrellas a pentagonos?



4) ¿Cuál es la razón de hearts a pentagonos?



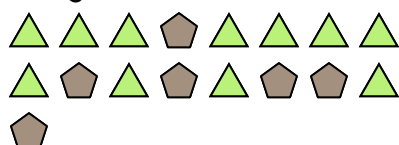
6) ¿Cuál es la razón de círculos a pentágonos?



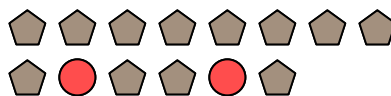
8) ¿Cuál es la razón de moons a pentagonos?




10) ¿Cuál es la razón de pentagonos a triangulos?




1) ¿Cuál es la razón de pentagonos a círculos?




3) ¿Cuál es la razón de moons a cuadros?



5) ¿Cuál es la razón de hearts a círculos?



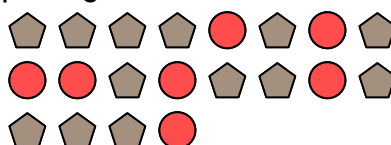
7) ¿Cuál es la razón de moons a círculos?



9) ¿Cuál es la razón de estrellas a pentagonos?



11) ¿Cuál es la razón de círculos a pentágonos?



Ej. **5:7**

1. _____

2. _____

3.

4.

5.

6.

7.

8.

9

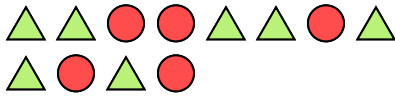
10

11



Resuelve cada problema.


Ej) ¿Cuál es la razón de círculos a triángulos?



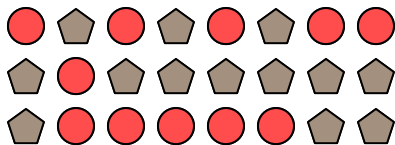
2) ¿Cuál es la razón de estrellas a pentágonos?



4) ¿Cuál es la razón de hearts a pentágonos?



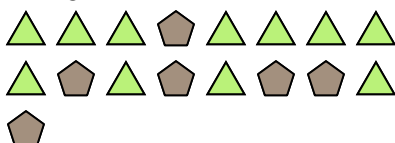
6) ¿Cuál es la razón de círculos a pentágonos?



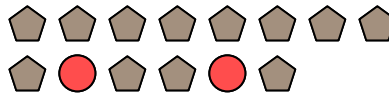
8) ¿Cuál es la razón de moons a pentágonos?



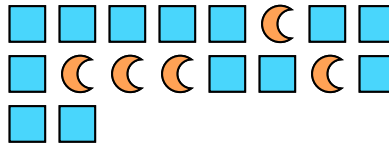
10) ¿Cuál es la razón de pentágonos a triángulos?




1) ¿Cuál es la razón de pentágonos a círculos?




3) ¿Cuál es la razón de moons a cuadros?



5) ¿Cuál es la razón de hearts a círculos?



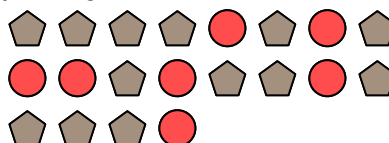
7) ¿Cuál es la razón de moons a círculos?



9) ¿Cuál es la razón de estrellas a pentágonos?



11) ¿Cuál es la razón de círculos a pentágonos?

**Respuestas**Ej. **5:7**1. **12:2**2. **9:5**3. **5:13**4. **15:13**5. **10:11**6. **11:13**7. **8:9**8. **4:5**9. **6:5**10. **6:11**11. **7:13**