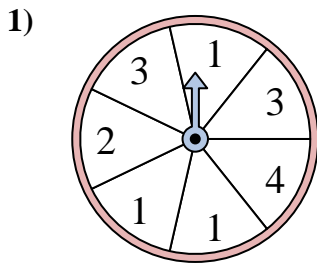
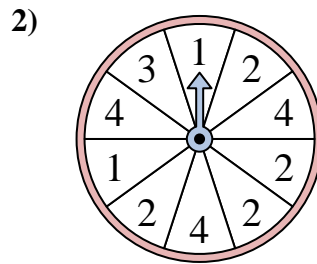




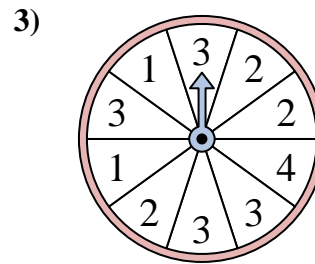
Resuelve cada problema. Redondea tu respuesta a la décima más cercana.

**Respuestas**

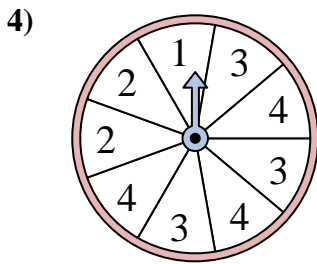
La ruleta tiene un% {EN}  
{BLANCO} de  
posibilidades de aterrizar  
en un 4.



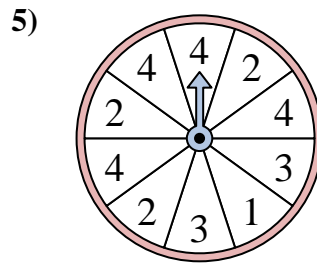
La ruleta tiene un% {EN}  
{BLANCO} de  
posibilidades de aterrizar  
en un 1.



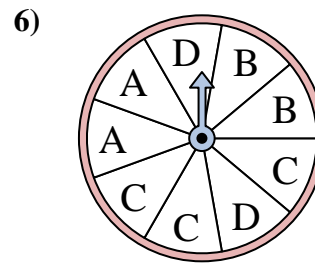
La ruleta tiene un% {EN}  
{BLANCO} de  
posibilidades de aterrizar  
en un 1.



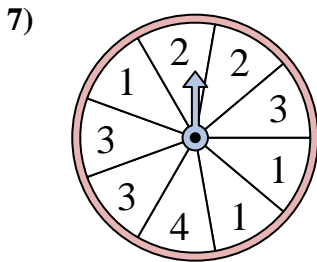
La ruleta tiene un% {EN}  
{BLANCO} de  
posibilidades de aterrizar  
en un 3.



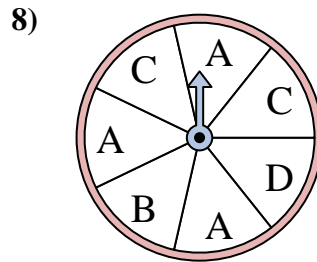
La ruleta tiene un% {EN}  
{BLANCO} de  
posibilidades de aterrizar  
en un 1.



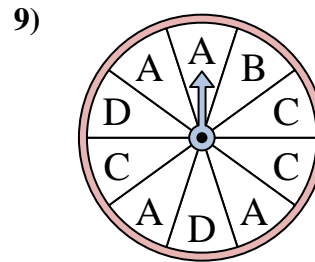
La ruleta tiene un% {EN}  
{BLANCO} de  
posibilidades de aterrizar  
en un D.



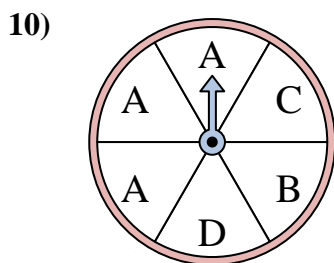
La ruleta tiene un% {EN}  
{BLANCO} de  
posibilidades de aterrizar  
en un 3.



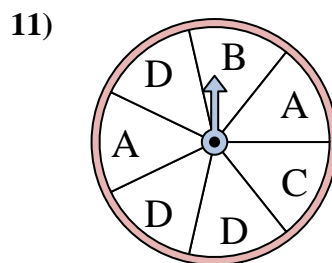
La ruleta tiene un% {EN}  
{BLANCO} de  
posibilidades de aterrizar  
en un B.



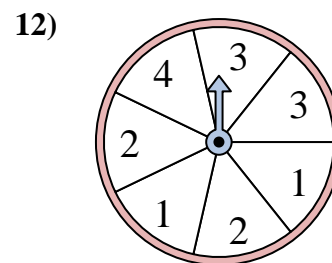
La ruleta tiene un% {EN}  
{BLANCO} de  
posibilidades de aterrizar  
en un B.



La ruleta tiene un% {EN}  
{BLANCO} de  
posibilidades de aterrizar  
en un C.



La ruleta tiene un% {EN}  
{BLANCO} de  
posibilidades de aterrizar  
en un C.

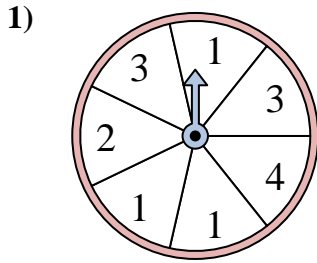


La ruleta tiene un% {EN}  
{BLANCO} de  
posibilidades de aterrizar  
en un 4.

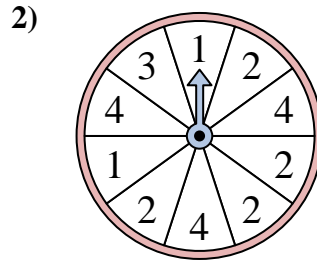
1. \_\_\_\_\_
2. \_\_\_\_\_
3. \_\_\_\_\_
4. \_\_\_\_\_
5. \_\_\_\_\_
6. \_\_\_\_\_
7. \_\_\_\_\_
8. \_\_\_\_\_
9. \_\_\_\_\_
10. \_\_\_\_\_
11. \_\_\_\_\_
12. \_\_\_\_\_



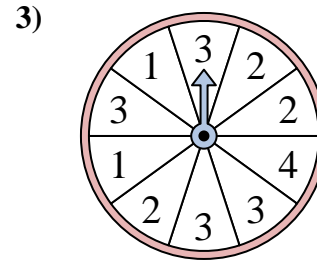
Resuelve cada problema. Redondea tu respuesta a la décima más cercana.

**Respuestas**

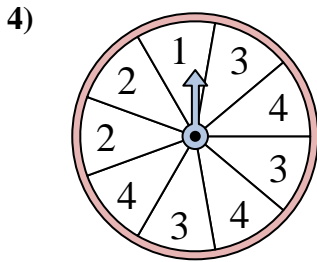
La ruleta tiene un% {EN}  
{BLANCO} de  
posibilidades de aterrizar  
en un 4.



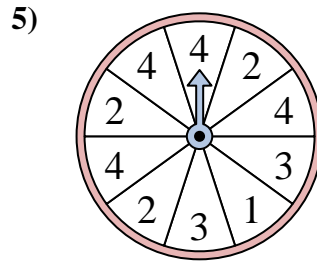
La ruleta tiene un% {EN}  
{BLANCO} de  
posibilidades de aterrizar  
en un 1.



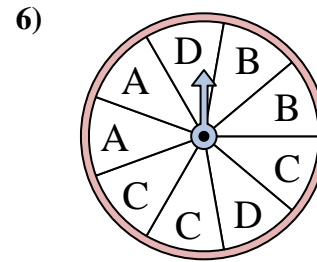
La ruleta tiene un% {EN}  
{BLANCO} de  
posibilidades de aterrizar  
en un 1.



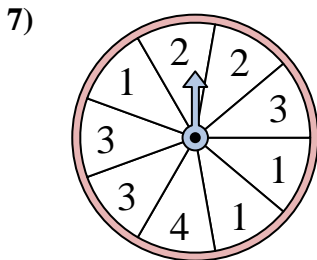
La ruleta tiene un% {EN}  
{BLANCO} de  
posibilidades de aterrizar  
en un 3.



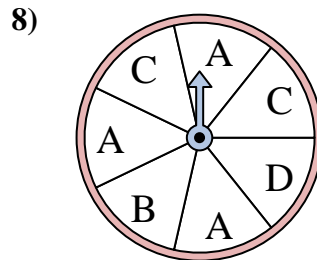
La ruleta tiene un% {EN}  
{BLANCO} de  
posibilidades de aterrizar  
en un 1.



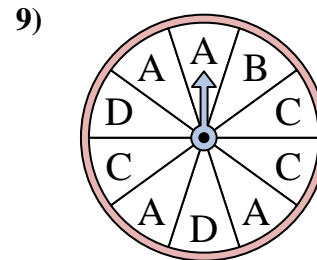
La ruleta tiene un% {EN}  
{BLANCO} de  
posibilidades de aterrizar  
en un D.



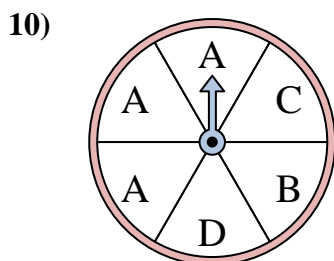
La ruleta tiene un% {EN}  
{BLANCO} de  
posibilidades de aterrizar  
en un 3.



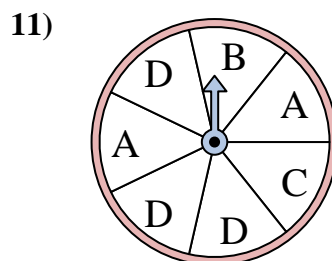
La ruleta tiene un% {EN}  
{BLANCO} de  
posibilidades de aterrizar  
en un B.



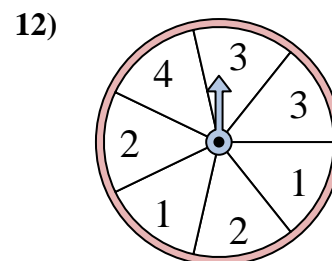
La ruleta tiene un% {EN}  
{BLANCO} de  
posibilidades de aterrizar  
en un B.



La ruleta tiene un% {EN}  
{BLANCO} de  
posibilidades de aterrizar  
en un C.



La ruleta tiene un% {EN}  
{BLANCO} de  
posibilidades de aterrizar  
en un C.



La ruleta tiene un% {EN}  
{BLANCO} de  
posibilidades de aterrizar  
en un 4.

1. **14.3**
2. **20**
3. **20**
4. **33.3**
5. **10**
6. **22.2**
7. **33.3**
8. **14.3**
9. **10**
10. **16.7**
11. **14.3**
12. **14.3**