




Resuelve cada problema.


Respuestas

1) ¿Qué letra muestra mejor -109?




1. \_\_\_\_\_

2) ¿Qué letra muestra mejor -60?




2. \_\_\_\_\_

3) ¿Qué letra muestra mejor -118?




3. \_\_\_\_\_

4) ¿Qué letra muestra mejor -18?



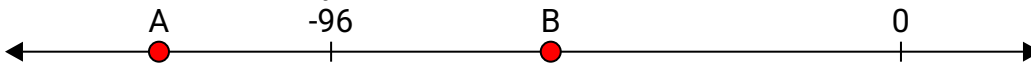
4. \_\_\_\_\_

5) ¿Qué letra muestra mejor -111?



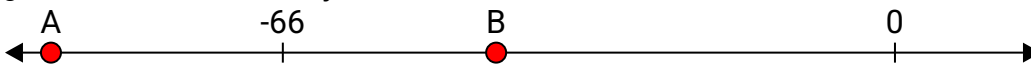
5. \_\_\_\_\_

6) ¿Qué letra muestra mejor -59?



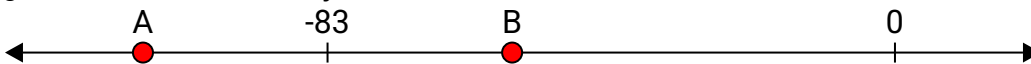
6. \_\_\_\_\_

7) ¿Qué letra muestra mejor -91?



7. \_\_\_\_\_

8) ¿Qué letra muestra mejor -110?



8. \_\_\_\_\_

9) ¿Qué letra muestra mejor -27?



9. \_\_\_\_\_

10) ¿Qué letra muestra mejor -109?



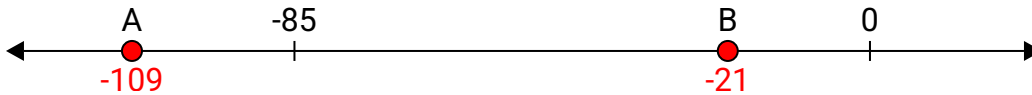
10. \_\_\_\_\_



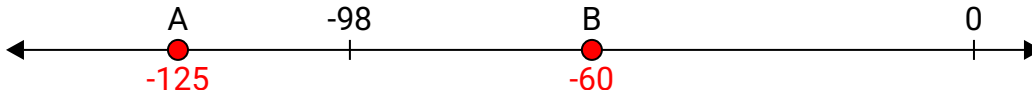
Resuelve cada problema.

Respuestas

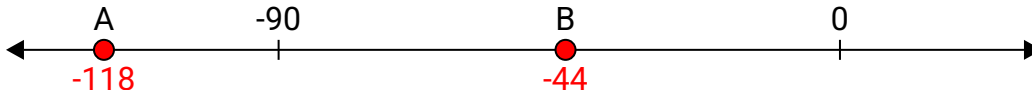
1) ¿Qué letra muestra mejor -109?

1. **A**


2) ¿Qué letra muestra mejor -60?

2. **B**


3) ¿Qué letra muestra mejor -118?

3. **A**

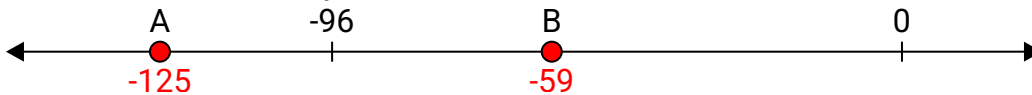
4) ¿Qué letra muestra mejor -18?

4. **B**

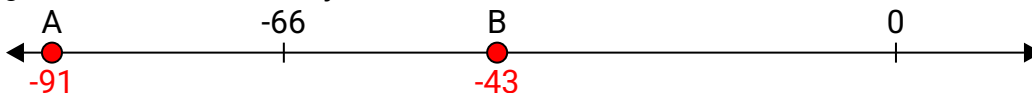
5) ¿Qué letra muestra mejor -111?

5. **A**

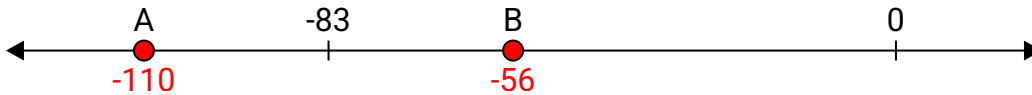
6) ¿Qué letra muestra mejor -59?

6. **B**


7) ¿Qué letra muestra mejor -91?

7. **A**

8) ¿Qué letra muestra mejor -110?

8. **A**

9) ¿Qué letra muestra mejor -27?

9. **B**

10) ¿Qué letra muestra mejor -109?

10. **A**