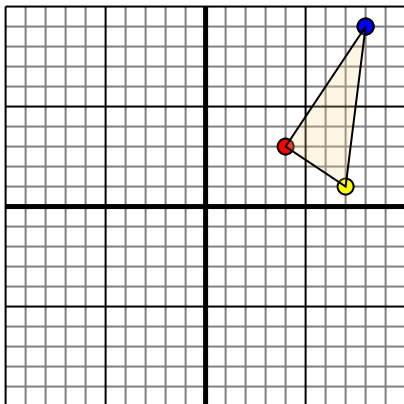




Trasladar cada figura como se describe.

1)

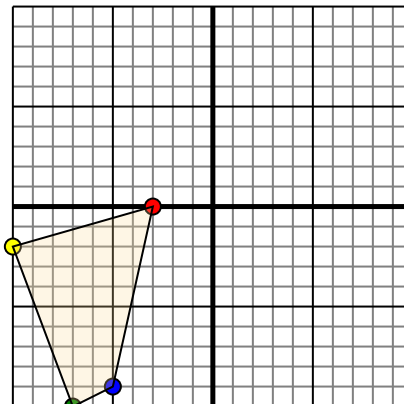


La figura de arriba tiene las siguientes coordenadas:

- A. (4,3)
- B. (7,1)
- C. (8,9)

Mueve la figura 5 unidades a la izquierda y 6 unidades hacia abajo.

2)

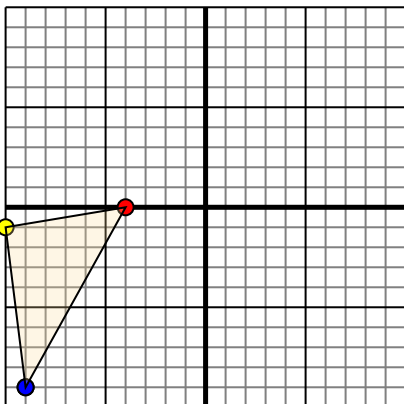


La figura de arriba tiene las siguientes coordenadas:

- A. (-3,0)
- B. (-10,-2)
- C. (-7,-10)
- D. (-5,-9)

Mueve la figura 5 unidades derecho y 3 unidades hacia arriba.

3)

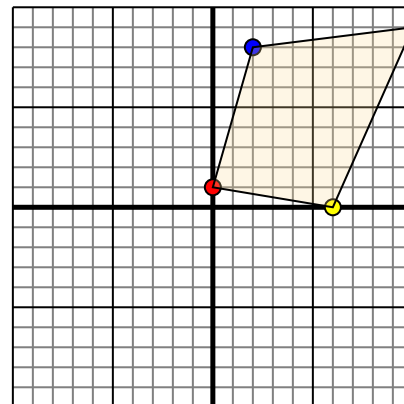


La figura de arriba tiene las siguientes coordenadas:

- A. (-4,0)
- B. (-10,-1)
- C. (-9,-9)

Mueve la figura 6 unidades derecho y 8 unidades hacia arriba.

4)



La figura de arriba tiene las siguientes coordenadas:

- A. (0,1)
- B. (6,0)
- C. (10,9)
- D. (2,8)

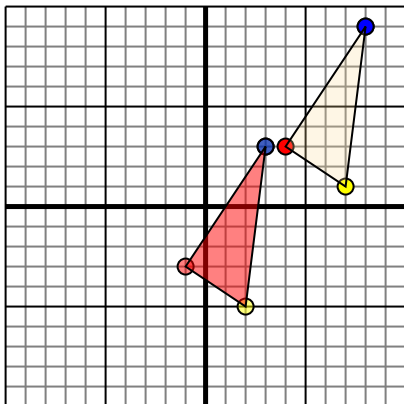
Mueve la figura 9 unidades a la izquierda y 7 unidades hacia abajo.

Respuestas1. _____ [gráfica](#)2. _____ [gráfica](#)3. _____ [gráfica](#)4. _____ [gráfica](#)



Trasladar cada figura como se describe.

1)

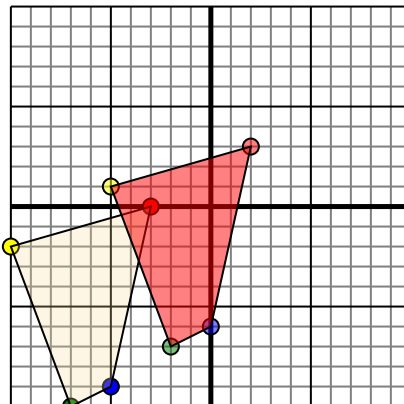


La figura de arriba tiene las siguientes coordenadas:

- A. (4,3)
- B. (7,1)
- C. (8,9)

Mueve la figura 5 unidades a la izquierda y 6 unidades hacia abajo.

2)

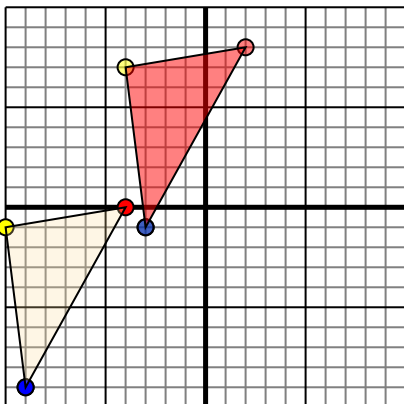


La figura de arriba tiene las siguientes coordenadas:

- A. (-3,0)
- B. (-10,-2)
- C. (-7,-10)
- D. (-5,-9)

Mueve la figura 5 unidades derecho y 3 unidades hacia arriba.

3)

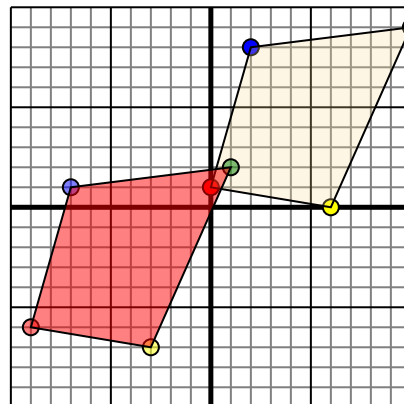


La figura de arriba tiene las siguientes coordenadas:

- A. (-4,0)
- B. (-10,-1)
- C. (-9,-9)

Mueve la figura 6 unidades derecho y 8 unidades hacia arriba.

4)



La figura de arriba tiene las siguientes coordenadas:

- A. (0,1)
- B. (6,0)
- C. (10,9)
- D. (2,8)

Mueve la figura 9 unidades a la izquierda y 7 unidades hacia abajo.

Respuestas1. -1,-3 2,-5 3,3 gráfica2. 2,3 -5,1 -2,-7 0,-6 gráfica3. 2,8 -4,7 -3,-1 gráfica4. -9,-6 -3,-7 1,2 -7,1 gráfica