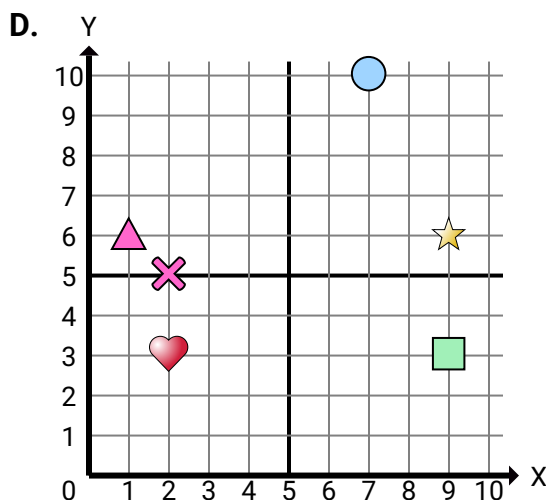
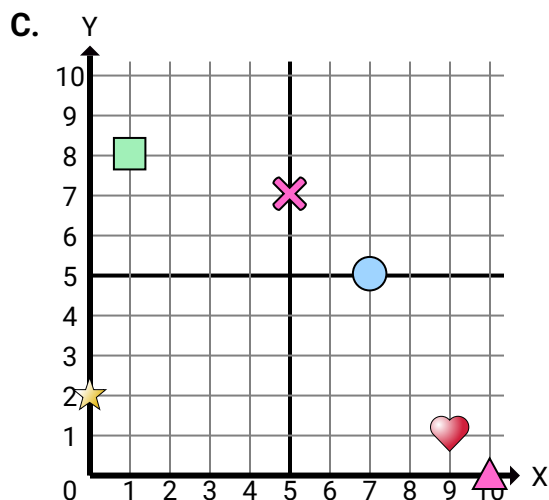
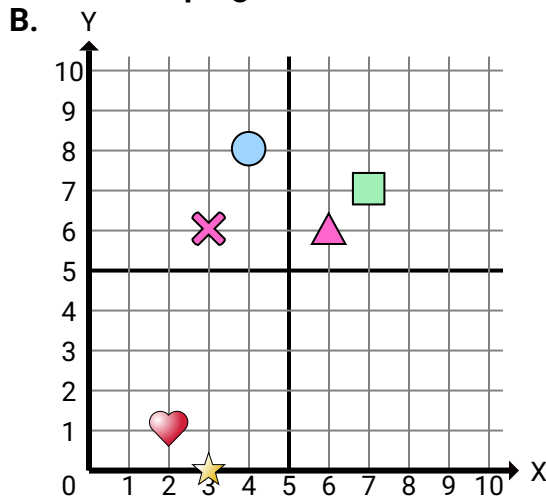
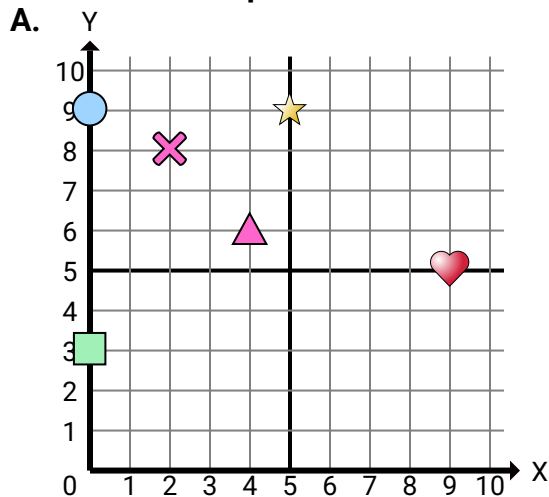


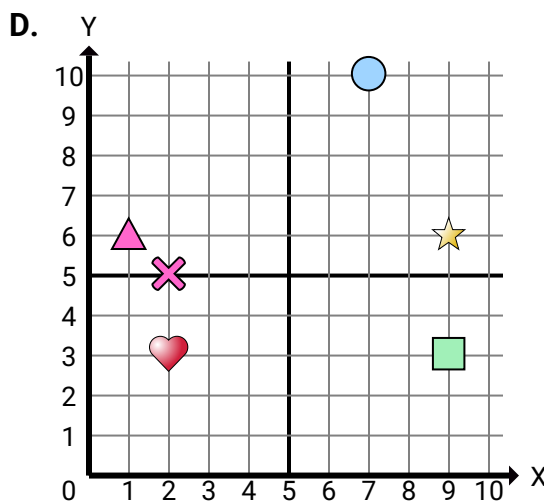
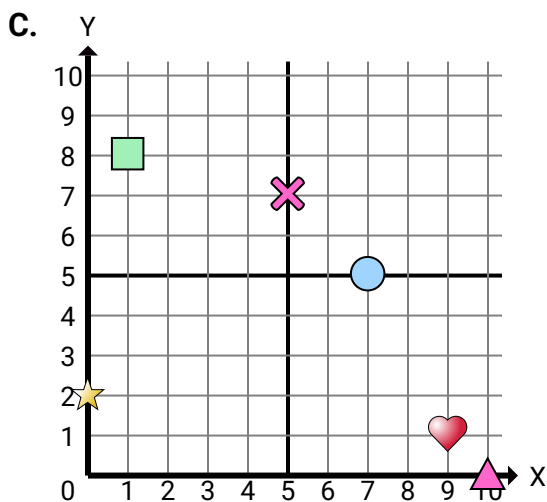
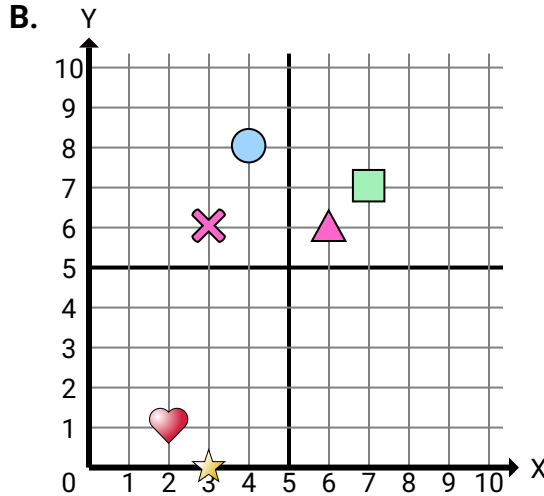
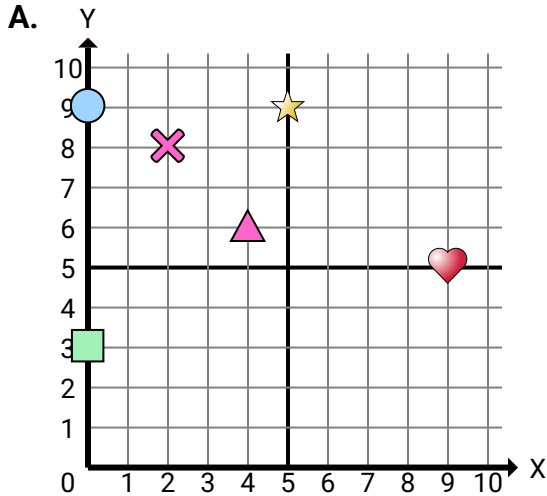
**Determinar cuál plano cartesiano corresponde a cada pregunta.****Respuestas**

1. _____
2. _____
3. _____
4. _____
5. _____
6. _____
7. _____
8. _____
9. _____
10. _____
11. _____
12. _____
13. _____
14. _____
15. _____

- 1) ¿Qué plano de coordenadas tiene una figura en (5 , 9)?
- 2) ¿Qué plano de coordenadas tiene una figura en (0 , 3)?
- 3) ¿Qué plano de coordenadas tiene una figura en (0 , 9)?
- 4) ¿Qué plano de coordenadas tiene una figura en (4 , 6)?
- 5) ¿Qué plano de coordenadas tiene una figura en (2 , 8)?
- 6) ¿Qué plano de coordenadas tiene una figura en (2 , 1)?
- 7) ¿Qué plano de coordenadas tiene una figura en (3 , 0)?
- 8) ¿Qué plano de coordenadas tiene una figura en (7 , 7)?
- 9) ¿Qué plano de coordenadas tiene una figura en (4 , 8)?
- 10) ¿Qué plano de coordenadas tiene una figura en (6 , 6)?
- 11) ¿Qué plano de coordenadas tiene una figura en (3 , 6)?
- 12) ¿Qué plano de coordenadas tiene una figura en (9 , 1)?
- 13) ¿Qué plano de coordenadas tiene una figura en (0 , 2)?
- 14) ¿Qué plano de coordenadas tiene una figura en (1 , 8)?
- 15) ¿Qué plano de coordenadas tiene una figura en (7 , 5)?



Determinar cuál plano cartesiano corresponde a cada pregunta.

**Respuestas**

1. **C**
2. **C**
3. **A**
4. **B**
5. **D**
6. **C**
7. **D**
8. **B**
9. **D**
10. **A**
11. **A**
12. **C**
13. **B**
14. **B**
15. **B**

- 1) ¿Qué plano de coordenadas tiene una figura en (5 , 9)?
- 2) ¿Qué plano de coordenadas tiene una figura en (0 , 3)?
- 3) ¿Qué plano de coordenadas tiene una figura en (0 , 9)?
- 4) ¿Qué plano de coordenadas tiene una figura en (4 , 6)?
- 5) ¿Qué plano de coordenadas tiene una figura en (2 , 8)?
- 6) ¿Qué plano de coordenadas tiene una figura en (2 , 1)?
- 7) ¿Qué plano de coordenadas tiene una figura en (3 , 0)?
- 8) ¿Qué plano de coordenadas tiene una figura en (7 , 7)?
- 9) ¿Qué plano de coordenadas tiene una figura en (4 , 8)?
- 10) ¿Qué plano de coordenadas tiene una figura en (6 , 6)?
- 11) ¿Qué plano de coordenadas tiene una figura en (3 , 6)?
- 12) ¿Qué plano de coordenadas tiene una figura en (9 , 1)?
- 13) ¿Qué plano de coordenadas tiene una figura en (0 , 2)?
- 14) ¿Qué plano de coordenadas tiene una figura en (1 , 8)?
- 15) ¿Qué plano de coordenadas tiene una figura en (7 , 5)?