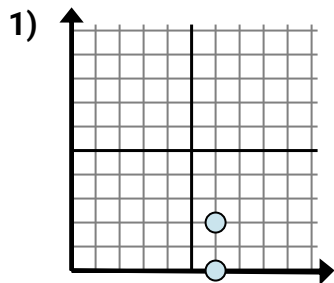




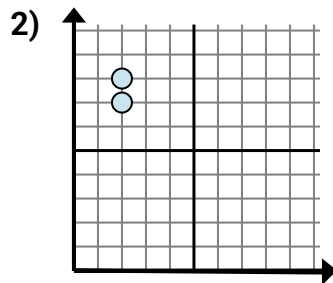
Encontrar la expresión que muestra la distancia entre puntos Nombre: _____

Determine qué expresión muestra mejor la distancia entre los dos puntos.

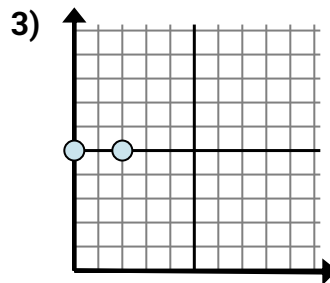
Respuestas



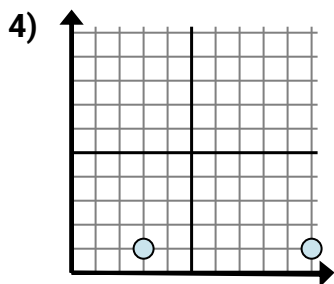
- A. $2 - 0$
- B. $6 - 0$
- C. $0 - 6$
- D. $6 - 6$



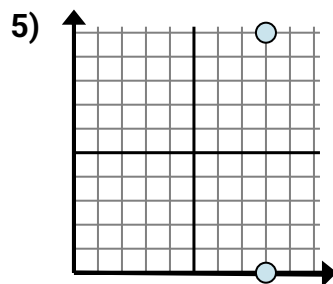
- A. $7 - 2$
- B. $8 - 7$
- C. $8 - 2$
- D. $2 - 7$



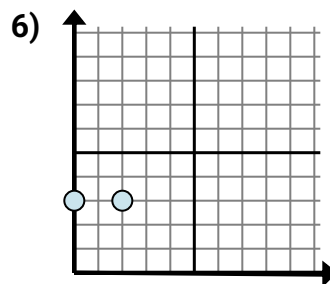
- A. $5 - 5$
- B. $5 - 0$
- C. $2 - 0$
- D. $0 - 5$



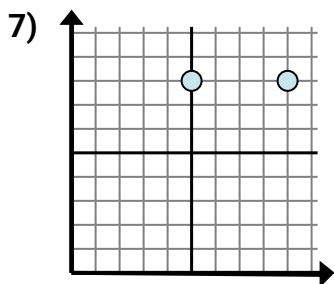
- A. $10 - 1$
- B. $1 - 1$
- C. $10 - 3$
- D. $1 - 1$



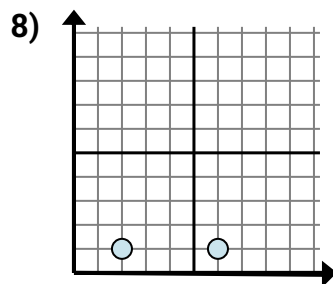
- A. $8 - 8$
- B. $8 - 10$
- C. $8 - 10$
- D. $10 - 0$



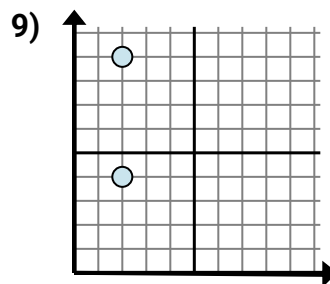
- A. $3 - 2$
- B. $0 - 3$
- C. $2 - 3$
- D. $2 - 0$



- A. $8 - 8$
- B. $9 - 5$
- C. $8 - 5$
- D. $8 - 5$



- A. $2 - 6$
- B. $6 - 1$
- C. $6 - 2$
- D. $1 - 6$



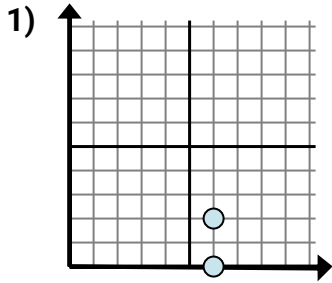
- A. $2 - 9$
- B. $4 - 2$
- C. $2 - 9$
- D. $9 - 4$

- 1. _____
- 2. _____
- 3. _____
- 4. _____
- 5. _____
- 6. _____
- 7. _____
- 8. _____
- 9. _____

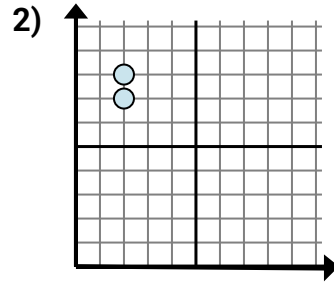


Determine qué expresión muestra mejor la distancia entre los dos puntos.

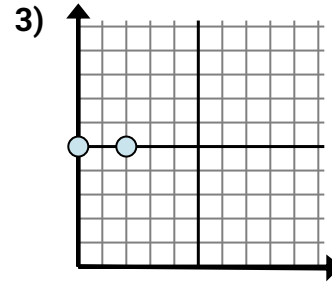
Respuestas



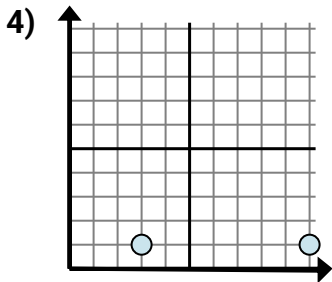
- A. $2 - 0$
- B. $6 - 0$
- C. $0 - 6$
- D. $6 - 6$



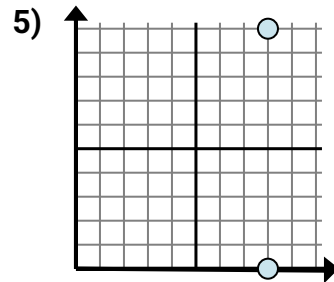
- A. $7 - 2$
- B. $8 - 7$
- C. $8 - 2$
- D. $2 - 7$



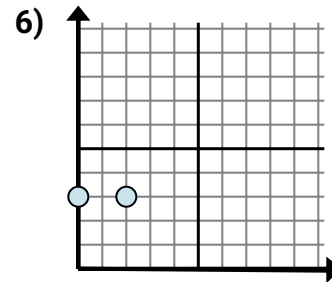
- A. $5 - 5$
- B. $5 - 0$
- C. $2 - 0$
- D. $0 - 5$



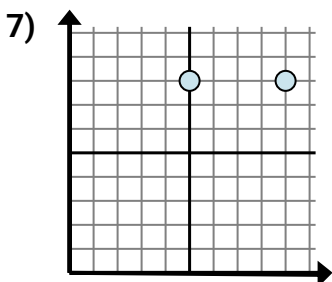
- A. $10 - 1$
- B. $1 - 1$
- C. $10 - 3$
- D. $1 - 1$



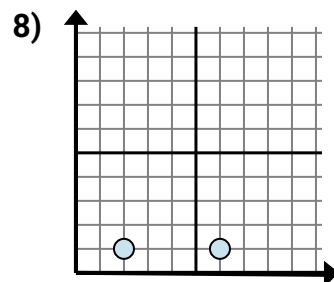
- A. $8 - 8$
- B. $8 - 10$
- C. $8 - 10$
- D. $10 - 0$



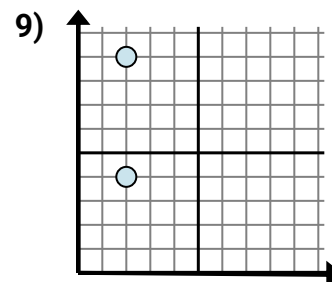
- A. $3 - 2$
- B. $0 - 3$
- C. $2 - 3$
- D. $2 - 0$



- A. $8 - 8$
- B. $9 - 5$
- C. $8 - 5$
- D. $8 - 5$



- A. $2 - 6$
- B. $6 - 1$
- C. $6 - 2$
- D. $1 - 6$



- A. $2 - 9$
- B. $4 - 2$
- C. $2 - 9$
- D. $9 - 4$

- 1. **A**
- 2. **B**
- 3. **C**
- 4. **C**
- 5. **D**
- 6. **D**
- 7. **B**
- 8. **C**
- 9. **D**