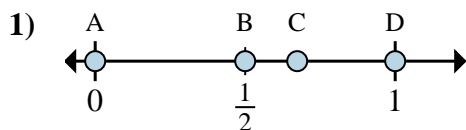
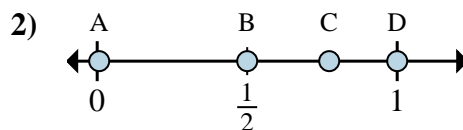
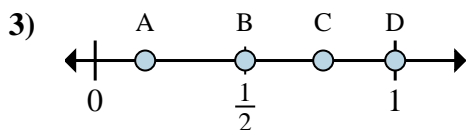
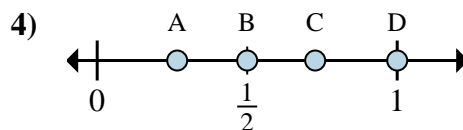
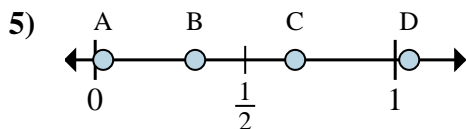
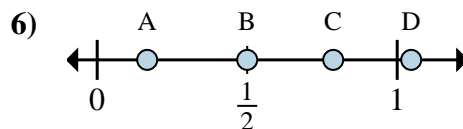
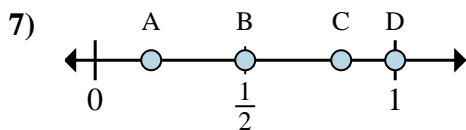
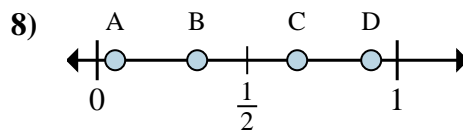


**Determina cuál letra mejor muestra la ubicación de la fracción.****Respuestas**a. ¿Qué letra representa mejor $\frac{0}{8}$ b. ¿Qué letra representa mejor $\frac{4}{8}$ a. ¿Qué letra representa mejor $\frac{4}{4}$ b. ¿Qué letra representa mejor $\frac{2}{4}$ a. ¿Qué letra representa mejor $\frac{2}{2}$ b. ¿Qué letra representa mejor $\frac{1}{2}$ a. ¿Qué letra representa mejor $\frac{2}{2}$ b. ¿Qué letra representa mejor $\frac{1}{2}$ a. ¿Qué letra representa mejor $\frac{2}{6}$ b. ¿Qué letra representa mejor $\frac{4}{6}$ a. ¿Qué letra representa mejor $\frac{1}{6}$ b. ¿Qué letra representa mejor $\frac{3}{6}$ a. ¿Qué letra representa mejor $\frac{1}{2}$ b. ¿Qué letra representa mejor $\frac{2}{2}$ a. ¿Qué letra representa mejor $\frac{1}{3}$ b. ¿Qué letra representa mejor $\frac{2}{3}$

1. _____

2. _____

3. _____

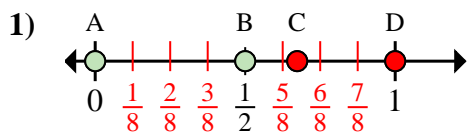
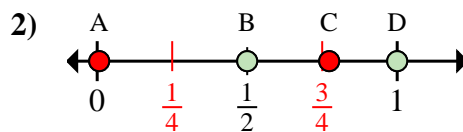
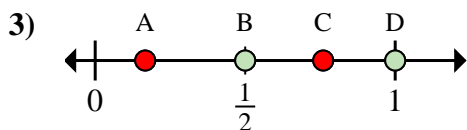
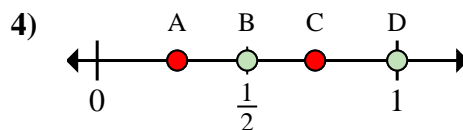
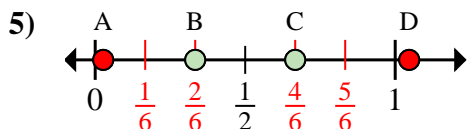
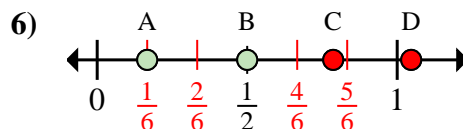
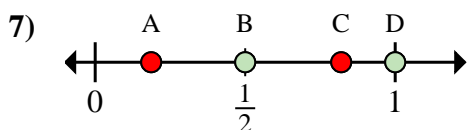
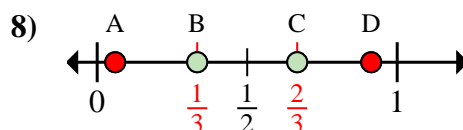
4. _____

5. _____

6. _____

7. _____

8. _____

**Determina cuál letra mejor muestra la ubicación de la fracción.****Respuestas**a. ¿Qué letra representa mejor $\frac{0}{8}$ b. ¿Qué letra representa mejor $\frac{4}{8}$ a. ¿Qué letra representa mejor $\frac{4}{4}$ b. ¿Qué letra representa mejor $\frac{2}{4}$ a. ¿Qué letra representa mejor $\frac{2}{2}$ b. ¿Qué letra representa mejor $\frac{1}{2}$ a. ¿Qué letra representa mejor $\frac{2}{2}$ b. ¿Qué letra representa mejor $\frac{1}{2}$ a. ¿Qué letra representa mejor $\frac{2}{6}$ b. ¿Qué letra representa mejor $\frac{4}{6}$ a. ¿Qué letra representa mejor $\frac{1}{6}$ b. ¿Qué letra representa mejor $\frac{3}{6}$ a. ¿Qué letra representa mejor $\frac{1}{2}$ b. ¿Qué letra representa mejor $\frac{2}{2}$ a. ¿Qué letra representa mejor $\frac{1}{3}$ b. ¿Qué letra representa mejor $\frac{2}{3}$ 1. **A** **B**2. **D** **B**3. **D** **B**4. **D** **B**5. **B** **C**6. **A** **B**7. **B** **D**8. **B** **C**