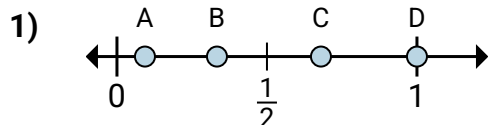
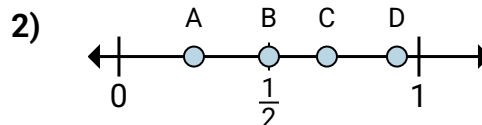
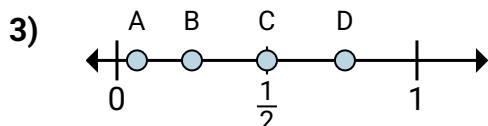
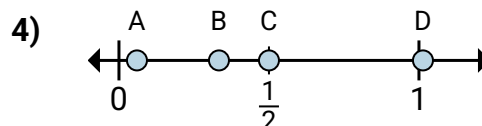
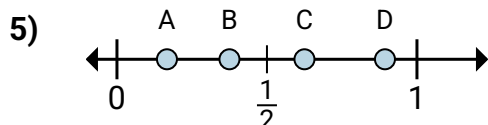
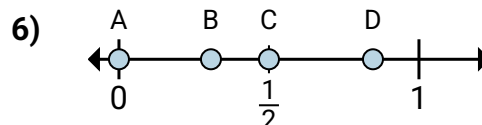
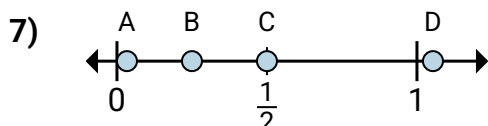
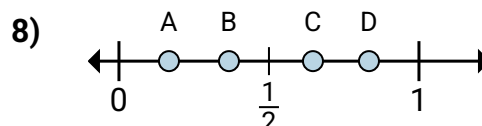


**Determina cuál letra mejor muestra la ubicación de la fracción.****Respuestas**a. ¿Qué letra muestra mejor $\frac{1}{3}$?b. ¿Qué letra muestra mejor $\frac{3}{3}$?a. ¿Qué letra muestra mejor $\frac{2}{4}$?b. ¿Qué letra muestra mejor $\frac{1}{4}$?a. ¿Qué letra muestra mejor $\frac{1}{4}$?b. ¿Qué letra muestra mejor $\frac{2}{4}$?a. ¿Qué letra muestra mejor $\frac{3}{6}$?b. ¿Qué letra muestra mejor $\frac{2}{6}$?a. ¿Qué letra muestra mejor $\frac{5}{8}$?b. ¿Qué letra muestra mejor $\frac{3}{8}$?a. ¿Qué letra muestra mejor $\frac{0}{2}$?b. ¿Qué letra muestra mejor $\frac{1}{2}$?a. ¿Qué letra muestra mejor $\frac{1}{4}$?b. ¿Qué letra muestra mejor $\frac{2}{4}$?a. ¿Qué letra muestra mejor $\frac{1}{6}$?b. ¿Qué letra muestra mejor $\frac{5}{6}$?

1. _____

2. _____

3. _____

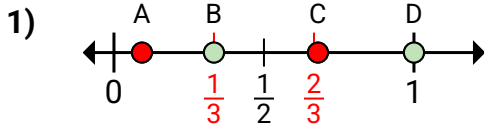
4. _____

5. _____

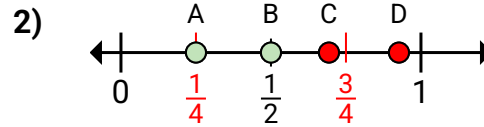
6. _____

7. _____

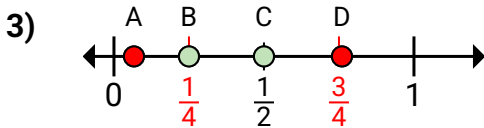
8. _____

**Determina cuál letra mejor muestra la ubicación de la fracción.****Respuestas**

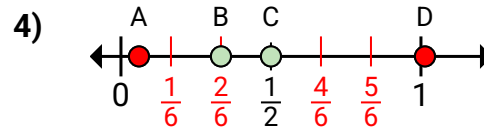
- a. ¿Qué letra muestra mejor $\frac{1}{3}$?
b. ¿Qué letra muestra mejor $\frac{3}{3}$?



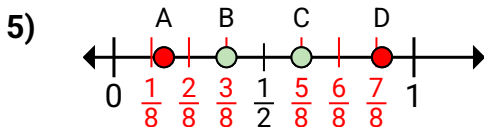
- a. ¿Qué letra muestra mejor $\frac{2}{4}$?
b. ¿Qué letra muestra mejor $\frac{1}{4}$?



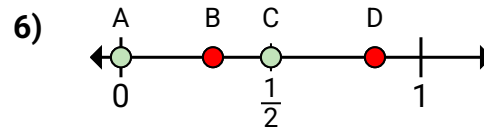
- a. ¿Qué letra muestra mejor $\frac{1}{4}$?
b. ¿Qué letra muestra mejor $\frac{2}{4}$?



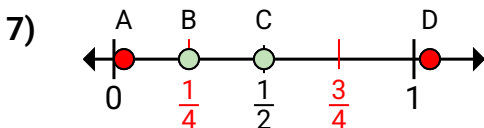
- a. ¿Qué letra muestra mejor $\frac{3}{6}$?
b. ¿Qué letra muestra mejor $\frac{2}{6}$?



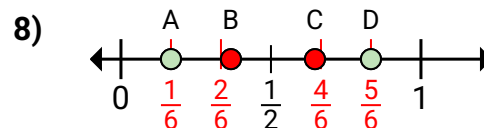
- a. ¿Qué letra muestra mejor $\frac{5}{8}$?
b. ¿Qué letra muestra mejor $\frac{3}{8}$?



- a. ¿Qué letra muestra mejor $\frac{0}{2}$?
b. ¿Qué letra muestra mejor $\frac{1}{2}$?



- a. ¿Qué letra muestra mejor $\frac{1}{4}$?
b. ¿Qué letra muestra mejor $\frac{2}{4}$?



- a. ¿Qué letra muestra mejor $\frac{1}{6}$?
b. ¿Qué letra muestra mejor $\frac{5}{6}$?

1. **B** **D**
2. **B** **A**
3. **B** **C**
4. **C** **B**
5. **C** **B**
6. **A** **C**
7. **B** **C**
8. **A** **D**