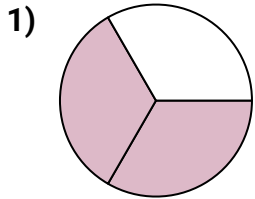


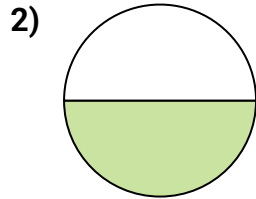


Determina cuál letra mejor describe a la porción sombreada.

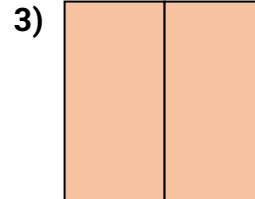
**Respuestas**



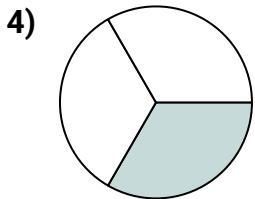
- A. tres cuartos  
B. una mitad  
C. dos tercios



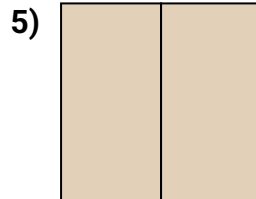
- A. una mitad  
B. un cuarto  
C. dos cuartos



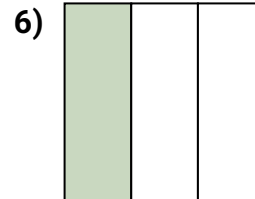
- A. tres cuartos  
B. un cuarto  
C. dos mitades



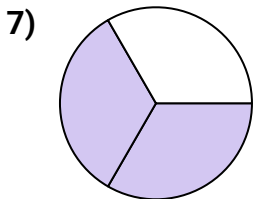
- A. tres cuartos  
B. tres cuartos  
C. un tercio



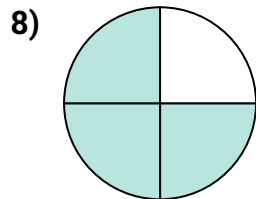
- A. un cuarto  
B. dos cuartos  
C. dos mitades



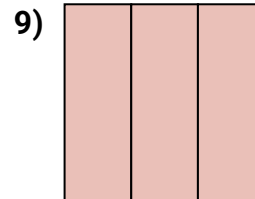
- A. un cuarto  
B. un tercio  
C. dos mitades



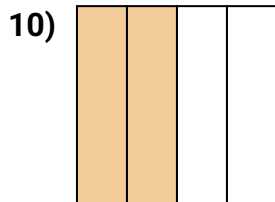
- A. dos tercios  
B. tres cuartos  
C. dos cuartos



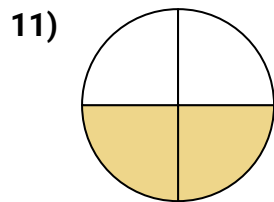
- A. un cuarto  
B. cuatro cuartos  
C. tres cuartos



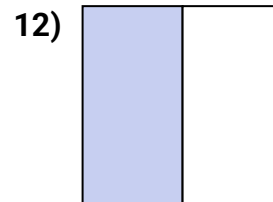
- A. una mitad  
B. dos cuartos  
C. tres tercios



- A. dos cuartos  
B. tres cuartos  
C. tres cuartos



- A. dos cuartos  
B. tres cuartos  
C. una mitad



- A. tres cuartos  
B. una mitad  
C. dos mitades

1. \_\_\_\_\_

2. \_\_\_\_\_

3. \_\_\_\_\_

4. \_\_\_\_\_

5. \_\_\_\_\_

6. \_\_\_\_\_

7. \_\_\_\_\_

8. \_\_\_\_\_

9. \_\_\_\_\_

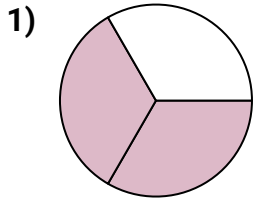
10. \_\_\_\_\_

11. \_\_\_\_\_

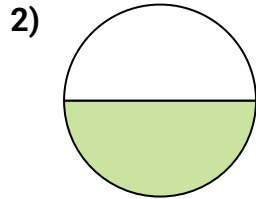
12. \_\_\_\_\_



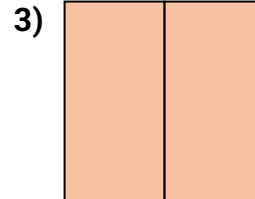
Determina cuál letra mejor describe a la porción sombreada.

**Respuestas**

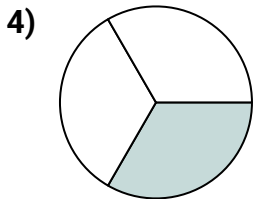
- A. tres cuartos  
B. una mitad  
C. dos tercios



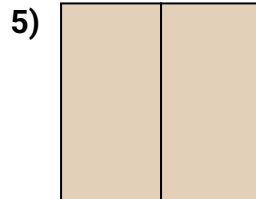
- A. una mitad  
B. un cuarto  
C. dos cuartos



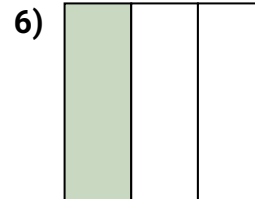
- A. tres cuartos  
B. un cuarto  
C. dos mitades



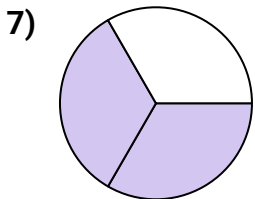
- A. tres cuartos  
B. tres cuartos  
C. un tercio



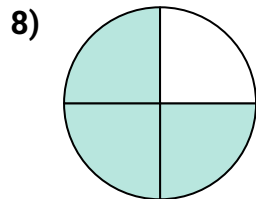
- A. un cuarto  
B. dos cuartos  
C. dos mitades



- A. un cuarto  
B. un tercio  
C. dos mitades



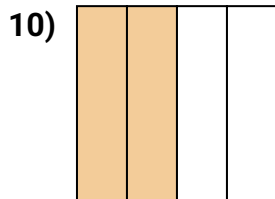
- A. dos tercios  
B. tres cuartos  
C. dos cuartos



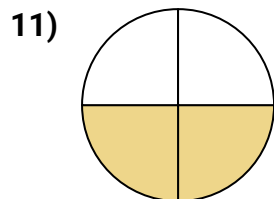
- A. un cuarto  
B. cuatro cuartos  
C. tres cuartos



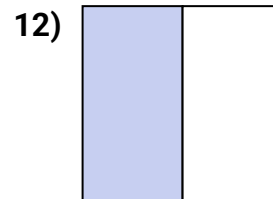
- A. una mitad  
B. dos cuartos  
C. tres tercios



- A. dos cuartos  
B. tres cuartos  
C. tres cuartos



- A. dos cuartos  
B. tres cuartos  
C. una mitad



- A. tres cuartos  
B. una mitad  
C. dos mitades

1. **C**  
2. **A**  
3. **C**  
4. **C**  
5. **C**  
6. **B**  
7. **A**  
8. **C**  
9. **C**  
10. **A**  
11. **A**  
12. **B**