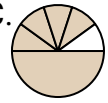
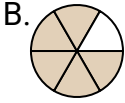
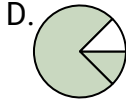
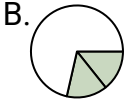
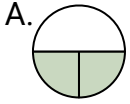
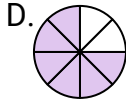
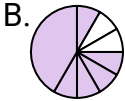
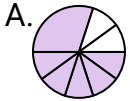
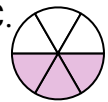
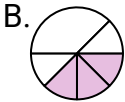
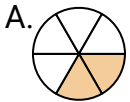
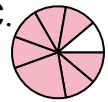
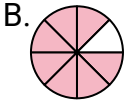
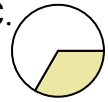
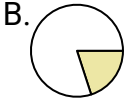
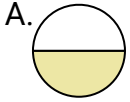
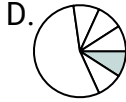
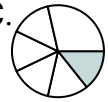
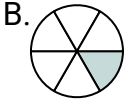
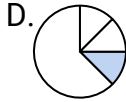
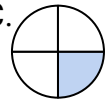
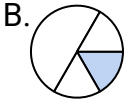
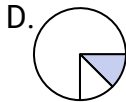
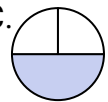
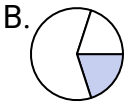
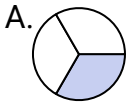


**Determina cuál letra mejor representa a cada fracción****Respuestas**1) ¿Que opción representa mejor  $\frac{5}{6}$ ?2) ¿Que opción representa mejor  $\frac{2}{3}$ ?3) ¿Que opción representa mejor  $\frac{6}{8}$ ?4) ¿Que opción representa mejor  $\frac{3}{6}$ ?5) ¿Que opción representa mejor  $\frac{2}{6}$ ?6) ¿Que opción representa mejor  $\frac{7}{8}$ ?7) ¿Que opción representa mejor  $\frac{1}{2}$ ?8) ¿Que opción representa mejor  $\frac{1}{6}$ ?9) ¿Que opción representa mejor  $\frac{1}{4}$ ?10) ¿Que opción representa mejor  $\frac{1}{3}$ ?11) ¿Que opción representa mejor  $\frac{3}{8}$ ?

1. \_\_\_\_\_

2. \_\_\_\_\_

3. \_\_\_\_\_

4. \_\_\_\_\_

5. \_\_\_\_\_

6. \_\_\_\_\_

7. \_\_\_\_\_

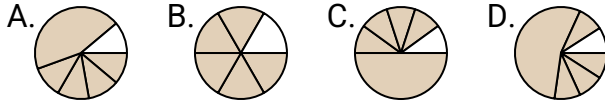
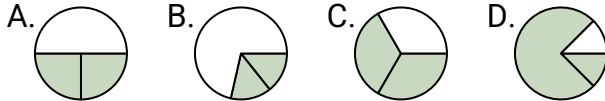
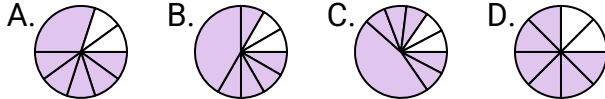
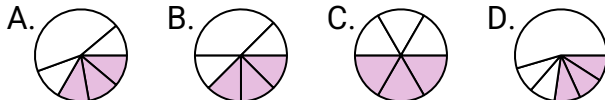
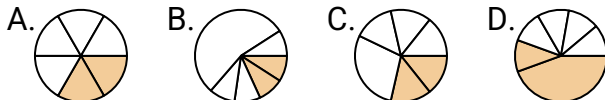
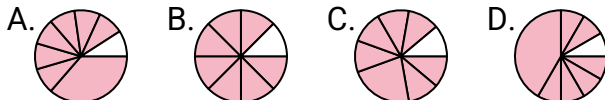
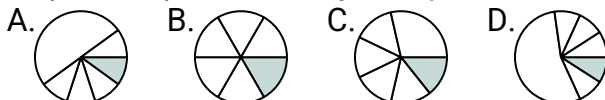
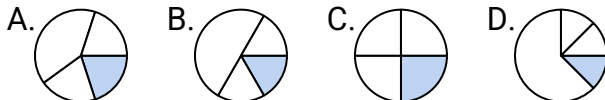
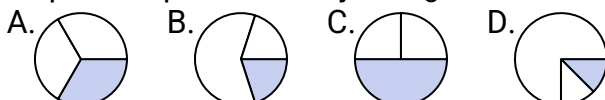
8. \_\_\_\_\_

9. \_\_\_\_\_

10. \_\_\_\_\_

11. \_\_\_\_\_

12. \_\_\_\_\_

**Determina cuál letra mejor representa a cada fracción****Respuestas**1) ¿Que opción representa mejor  $\frac{5}{6}$ ?1. **B**2) ¿Que opción representa mejor  $\frac{2}{3}$ ?2. **C**3. **D**4. **C**3) ¿Que opción representa mejor  $\frac{6}{8}$ ?5. **A**6. **B**4) ¿Que opción representa mejor  $\frac{3}{6}$ ?7. **A**8. **B**5) ¿Que opción representa mejor  $\frac{2}{6}$ ?9. **C**10. **A**6) ¿Que opción representa mejor  $\frac{7}{8}$ ?11. **C**7) ¿Que opción representa mejor  $\frac{1}{2}$ ?12. **A**8) ¿Que opción representa mejor  $\frac{1}{6}$ ?9) ¿Que opción representa mejor  $\frac{1}{4}$ ?10) ¿Que opción representa mejor  $\frac{1}{3}$ ?11) ¿Que opción representa mejor  $\frac{3}{8}$ ?