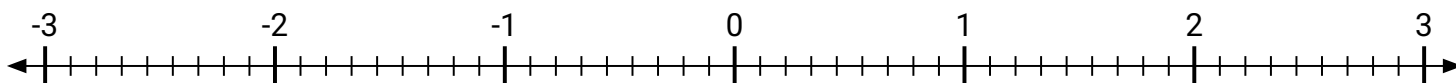


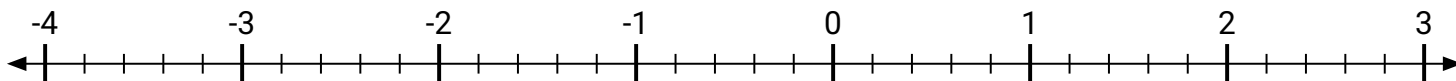


Marca cada ubicación descrita.

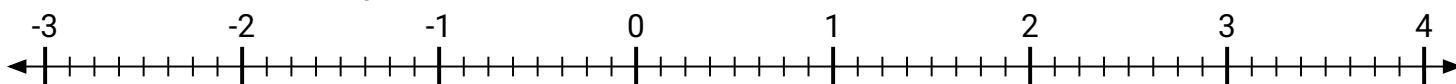
- 1) Marca la ubicación de $-2\frac{3}{9}$



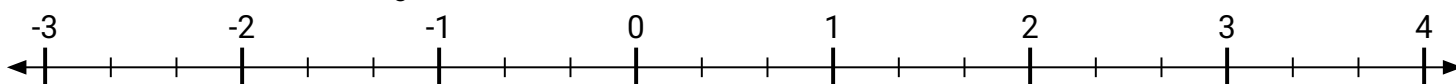
- 2) Marca la ubicación de $-3\frac{2}{5}$



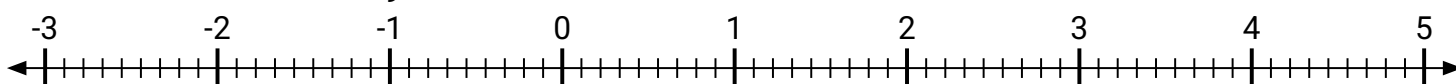
- 3) Marca la ubicación de $1\frac{1}{8}$



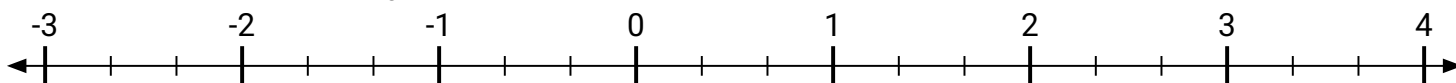
- 4) Marca la ubicación de $-1\frac{2}{3}$



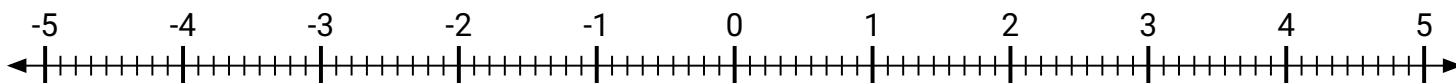
- 5) Marca la ubicación de $4\frac{2}{9}$



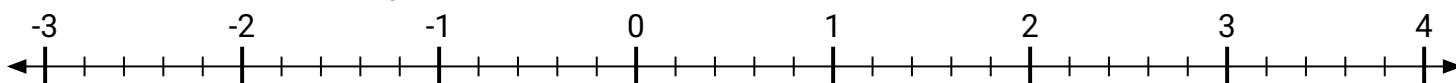
- 6) Marca la ubicación de $2\frac{2}{3}$



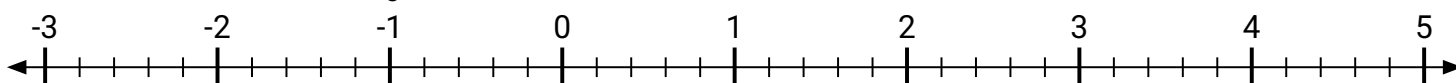
- 7) Marca la ubicación de $4\frac{4}{9}$



- 8) Marca la ubicación de $2\frac{3}{5}$

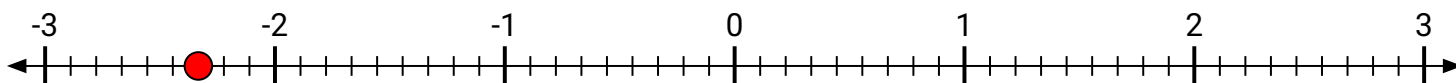


- 9) Marca la ubicación de $2\frac{1}{5}$

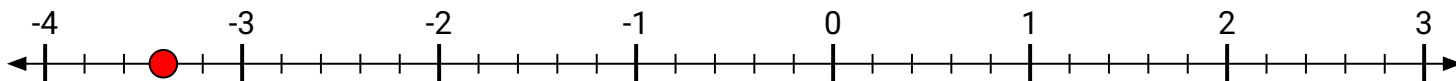


**Marca cada ubicación descrita.**

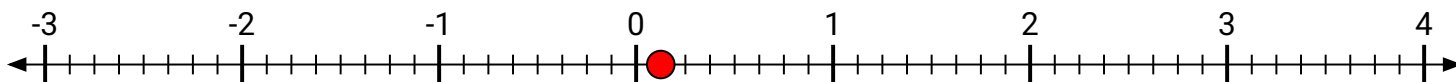
- 1) Marca la ubicación de
- $-2\frac{3}{9}$



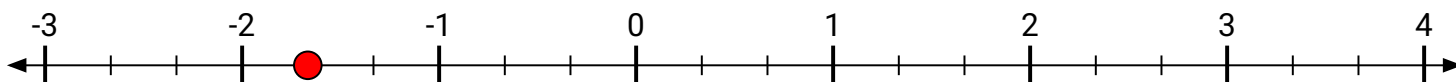
- 2) Marca la ubicación de
- $-3\frac{2}{5}$



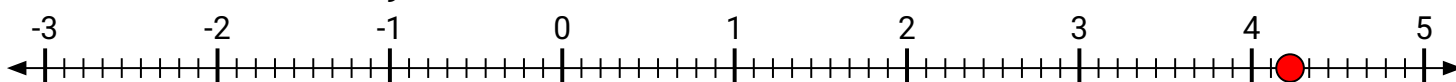
- 3) Marca la ubicación de
- $\frac{1}{8}$



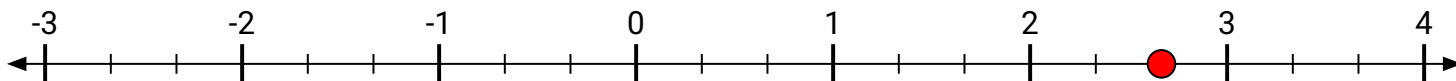
- 4) Marca la ubicación de
- $-1\frac{2}{3}$



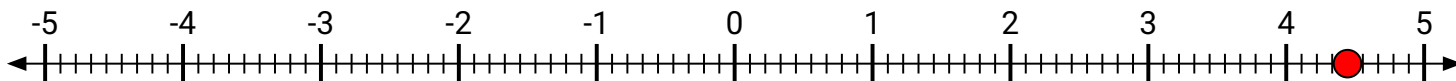
- 5) Marca la ubicación de
- $4\frac{2}{9}$



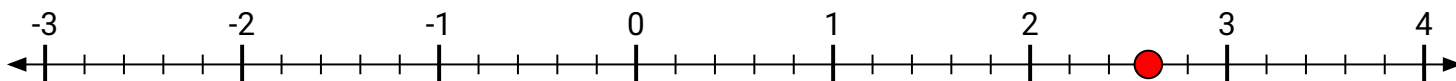
- 6) Marca la ubicación de
- $2\frac{2}{3}$



- 7) Marca la ubicación de
- $4\frac{4}{9}$



- 8) Marca la ubicación de
- $2\frac{3}{5}$



- 9) Marca la ubicación de
- $2\frac{1}{5}$

