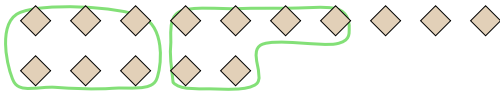


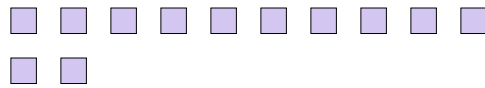


Usa los ejemplos a continuación para resolver las preguntas.


- Ej) Hay 15 figuras abajo. ¿Cuántos grupos de 6 puedes hacer con ellas? ¿Cuántas te sobrarán?



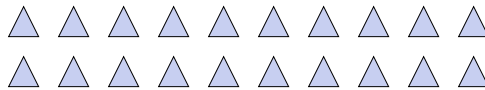
- 1) Hay 12 figuras abajo. ¿Cuántos grupos de 9 puedes hacer con ellas? ¿Cuántas te sobrarán?



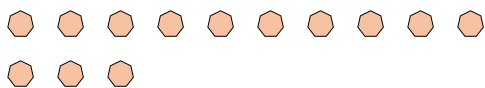
- 2) Hay 25 figuras abajo. ¿Cuántos grupos de 6 puedes hacer con ellas? ¿Cuántas te sobrarán?



- 3) Hay 20 figuras abajo. ¿Cuántos grupos de 7 puedes hacer con ellas? ¿Cuántas te sobrarán?



- 4) Hay 13 figuras abajo. ¿Cuántos grupos de 6 puedes hacer con ellas? ¿Cuántas te sobrarán?



- 5) Hay 23 figuras abajo. ¿Cuántos grupos de 8 puedes hacer con ellas? ¿Cuántas te sobrarán?



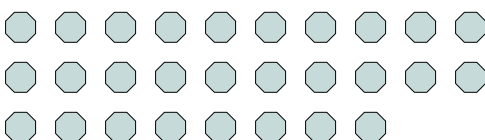
- 6) Hay 10 figuras abajo. ¿Cuántos grupos de 5 puedes hacer con ellas? ¿Cuántas te sobrarán?



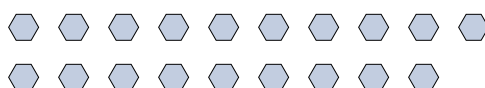
- 7) Hay 14 figuras abajo. ¿Cuántos grupos de 3 puedes hacer con ellas? ¿Cuántas te sobrarán?



- 8) Hay 28 figuras abajo. ¿Cuántos grupos de 2 puedes hacer con ellas? ¿Cuántas te sobrarán?



- 9) Hay 19 figuras abajo. ¿Cuántos grupos de 6 puedes hacer con ellas? ¿Cuántas te sobrarán?



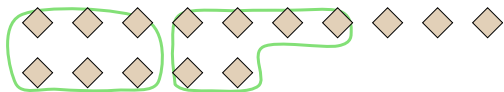
Respuestas

| | | |
|-----|----------|----------|
| Ej. | <u>2</u> | <u>3</u> |
| 1. | _____ | _____ |
| 2. | _____ | _____ |
| 3. | _____ | _____ |
| 4. | _____ | _____ |
| 5. | _____ | _____ |
| 6. | _____ | _____ |
| 7. | _____ | _____ |
| 8. | _____ | _____ |
| 9. | _____ | _____ |

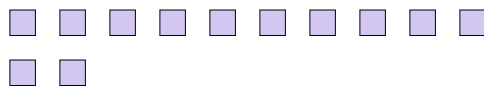


Usa los ejemplos a continuación para resolver las preguntas.


- Ej) Hay 15 figuras abajo. ¿Cuántos grupos de 6 puedes hacer con ellas? ¿Cuántas te sobrarán?



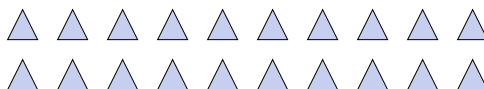
- 1) Hay 12 figuras abajo. ¿Cuántos grupos de 9 puedes hacer con ellas? ¿Cuántas te sobrarán?



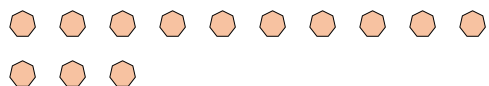
- 2) Hay 25 figuras abajo. ¿Cuántos grupos de 6 puedes hacer con ellas? ¿Cuántas te sobrarán?



- 3) Hay 20 figuras abajo. ¿Cuántos grupos de 7 puedes hacer con ellas? ¿Cuántas te sobrarán?



- 4) Hay 13 figuras abajo. ¿Cuántos grupos de 6 puedes hacer con ellas? ¿Cuántas te sobrarán?



- 5) Hay 23 figuras abajo. ¿Cuántos grupos de 8 puedes hacer con ellas? ¿Cuántas te sobrarán?



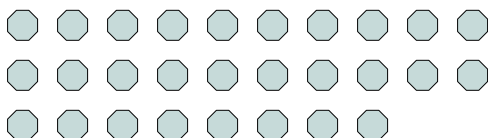
- 6) Hay 10 figuras abajo. ¿Cuántos grupos de 5 puedes hacer con ellas? ¿Cuántas te sobrarán?



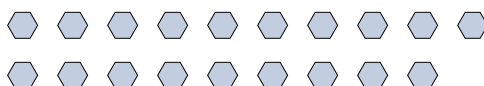
- 7) Hay 14 figuras abajo. ¿Cuántos grupos de 3 puedes hacer con ellas? ¿Cuántas te sobrarán?



- 8) Hay 28 figuras abajo. ¿Cuántos grupos de 2 puedes hacer con ellas? ¿Cuántas te sobrarán?



- 9) Hay 19 figuras abajo. ¿Cuántos grupos de 6 puedes hacer con ellas? ¿Cuántas te sobrarán?

**Respuestas**

| | | |
|-----|-----------|----------|
| Ej. | <u>2</u> | <u>3</u> |
| 1. | <u>1</u> | <u>3</u> |
| 2. | <u>4</u> | <u>1</u> |
| 3. | <u>2</u> | <u>6</u> |
| 4. | <u>2</u> | <u>1</u> |
| 5. | <u>2</u> | <u>7</u> |
| 6. | <u>2</u> | <u>0</u> |
| 7. | <u>4</u> | <u>2</u> |
| 8. | <u>14</u> | <u>0</u> |
| 9. | <u>3</u> | <u>1</u> |