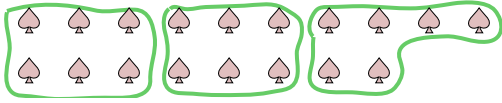




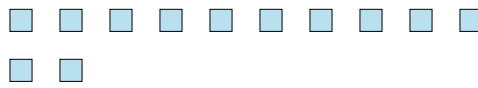


Usa las formas proporcionadas para resolver las preguntas.

Ej) ¿Cuántos grupos de 6 puedes hacer con las 18 figuras de abajo?



1) ¿Cuántos grupos de 4 puedes hacer con las 12 figuras de abajo?



2) ¿Cuántos grupos de 3 puedes hacer con las 30 figuras de abajo?




3) ¿Cuántos grupos de 2 puedes hacer con las 22 figuras de abajo?




4) ¿Cuántos grupos de 5 puedes hacer con las 10 figuras de abajo?



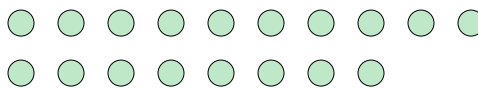
5) ¿Cuántos grupos de 4 puedes hacer con las 16 figuras de abajo?



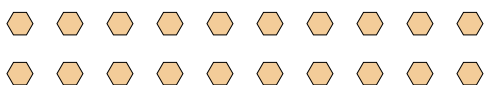
6) ¿Cuántos grupos de 6 puedes hacer con las 30 figuras de abajo?




7) ¿Cuántos grupos de 9 puedes hacer con las 18 figuras de abajo?



8) ¿Cuántos grupos de 4 puedes hacer con las 20 figuras de abajo?



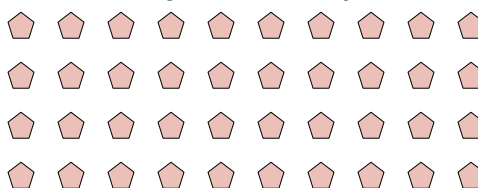
9) ¿Cuántos grupos de 2 puedes hacer con las 36 figuras de abajo?



10) ¿Cuántos grupos de 3 puedes hacer con las 18 figuras de abajo?



11) ¿Cuántos grupos de 4 puedes hacer con las 40 figuras de abajo?

**Respuestas**Ej. 31. 32. 103. 114. 25. 46. 57. 28. 59. 1810. 611. 10