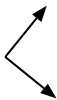




Determina si el ángulo mostrado es 'mayor', 'menor' o 'igual' a 90°.

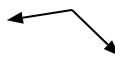
Ej)



1)



2)



Respuestas

Ej. igual

1. _____

2. _____

3)



4)



5)



3. _____

4. _____

6)



7)



8)



5. _____

6. _____

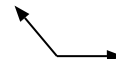
9)



10)



11)



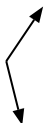
7. _____

8. _____

9. _____

10. _____

12)



13)



14)



11. _____

12. _____

13. _____

15)



16)



17)



14. _____

15. _____

16. _____

18)



19)



20)



17. _____

18. _____

19. _____

20. _____



Determina si el ángulo mostrado es 'mayor', 'menor' o 'igual' a 90° .

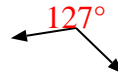
Ej)



1)



2)



3)



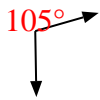
4)



5)



6)




7)



8)



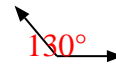
9)



10)



11)



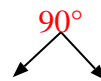
12)



13)



14)



15)



16)



17)



18)



19)



20)



Respuestas

Ej. igual

1. mayor

2. mayor

3. menor

4. igual

5. menor

6. mayor

7. menor

8. mayor

9. mayor

10. menor

11. mayor

12. mayor

13. igual

14. igual

15. igual

16. menor

17. igual

18. menor

19. igual

20. menor